

**2009 年中华人民共和国普通高等学校  
联合招收华侨、港澳地区、台湾省学生入学考试  
地理试卷**

题号	一	二	三	四	总分
分数					

一 选择题：本大题共 20 小题，每小题 3 分，共 60 分。在每小题给出的四个选项中，只有一项是符合题目要求的，请把所选项前的字母填在题后的括号内。

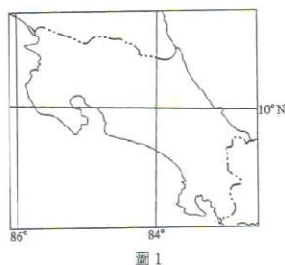
一般情况下，电网供应的电能相对稳定，而用电量常常是很不稳定的。目前解决这一问题的最有效办法是，在条件允许的地方修建抽水蓄能发电站。完成 1—2 题。

1. 下列抽水蓄能水电中，最先建设的是 ( )
- A 广东从化电站    B 浙江天荒坪电站    C 台湾日月潭电站    D 浙江桐柏电站
2. 下列发电方式中，供电最稳定、持续时间最长的是 ( )
- A 火电站    B 水电站    C 核电站    D 风力发电站

在印度洋中有一个海湾，两面连接大海，两面临陆。完成 3—6 题。

3. 该海湾是 ( )
- A 孟加拉湾    B 亚丁湾    C 阿曼湾    D 波斯湾
4. 与其相连通的两个海分别是 ( )
- A 红海、阿拉伯海    B 红海、黑海    C 地中海、黑海    D 阿拉伯海、地中海
5. 该海湾与其中一个海之间通过海峡连通，这个海峡是 ( )
- A 曼德海峡    B 霍尔木兹海峡    C 土耳其海峡    D 直布罗陀海峡
6. 只考虑海水表层盐度的因素，这个海峡表层海水常年流向为 ( )
- A 西向东    B 东南向西北    C 东向西    D 西南向东北

图 1 所示地区在当地时间 3 月 11 日 11 时许发生地震。读图 1 完成 7—9 题。



7. 该地区靠近的两大板块是 ( )
- A 太平洋板块和亚欧板块      B 印度洋板块和亚欧板块
- C 太平洋板块和美洲板块      D 印度洋板块和非洲板块

8. 地震发生时，北京时间约为 3 月 ( )
- A 12 日 13 时      B 12 日 1 时      C 11 日 23 时      D 10 日 23 时

9. 该段时间这个地区盛行 ( )
- A 西北风      B 西南风      C 东南风      D 东北风

图 2 表示某地月降水量和平均气温的年变化，点的标号代表月份。读图 2，完成 10—12 题。

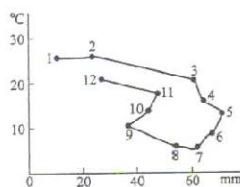


图 2

10. 该地气候属于 ( )
- A 温带海洋性气候      B 温带大陆性气候      C 地中海式气候      D 亚热带季风气候
11. 该地可能位于 ( )
- A 地中海沿岸      B 澳大利亚西南      C 美国太平洋沿岸      D 巴西东南部
12. 该地森林火险比较高的月份 ( )
- A 3、4、5、月      B 6、7、8 月      C 9、10、11 月      D 12、1、2 月

至 2009 年 2 月，我国已在两极地区建立了长城站、中山站、黄河站、昆仑站四座科学考察站。完成 13—14 题。

13. 四座极地科学考察站中，位于北极地区的是 ( )
- A 长城站      B 中山站      C 黄河站      D 昆仑站
14. 四座极地科学考察站中，纬度和海拔都最高的是 ( )
- A 长城站      B 中山站      C 黄河站      D 昆仑站
15. 2008 年，我国被收入《世界遗产名录》的道教名山是 ( )
- A 广东罗浮山      B 山东崂山      C 安徽齐云山      D 江西三清山

16. 石油蕴藏量丰富，地跨两大洲的国家是 ( )  
A 哈萨克斯坦 B 吉尔吉斯斯坦 C 塔吉克斯坦 D 乌兹别克斯坦
17. 近几年开工兴建的大型水利枢纽工程溪洛渡位于 ( )  
A 金沙江 B 雅砻江 C 红水河 D 澜沧江
18. 被誉为“波斯湾明珠”的城市迪拜所在的国家是 ( )  
A 沙特阿拉伯 B 阿联酋 C 卡塔尔 D 伊朗
19. 泰国最重要的农业出口商品是 ( )  
A 稻米、兰花 B 小麦、棕榈油 C 大豆、花生 D 棉花、香蕉
20. 已成为世界上第十一个个人口超过1亿的国家是 ( )  
A 墨西哥 B 尼日利亚 C 印尼 D 巴西

二 填空题 (共20分，本题共4小题，20个小空，每填对一空得1分)

21. 与巴基斯坦相邻的海洋和国家，按顺时针方向依次为：\_\_\_\_\_海，\_\_\_\_\_、\_\_\_\_\_、\_\_\_\_\_和\_\_\_\_\_。
22. 近年来，世界石油输出大国有亚洲的\_\_\_\_\_、\_\_\_\_\_，欧洲的\_\_\_\_\_，非洲的\_\_\_\_\_和南美洲的\_\_\_\_\_。
23. 亚洲是气候最为复杂多样的大洲。其中季风气候显著，自南向北依次分为\_\_\_\_\_季风气候、\_\_\_\_\_季风气候和\_\_\_\_\_季风气候；亚洲范围最广的气候类型是\_\_\_\_\_气候；亚洲还有全球最广的受非地带性因素影响而形成的\_\_\_\_\_气候。
24. 我国河流众多，其中最终注入印度洋的大河是\_\_\_\_\_和\_\_\_\_\_；最终注入北冰洋的大河是\_\_\_\_\_；最大的内流河是\_\_\_\_\_；纬度最高的大河是\_\_\_\_\_。

三、读图、填图题 (每项2分，共40分)

25. 读图3回答：

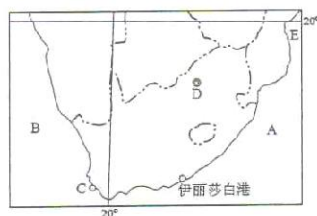
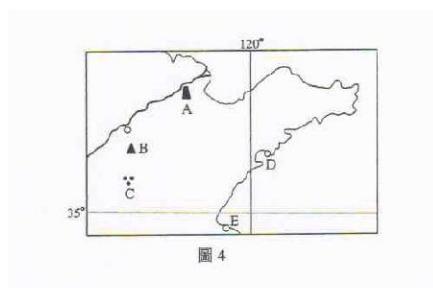


图3

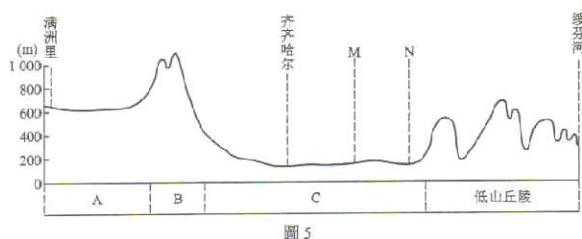
- (1) A 是\_\_\_\_\_洋, B 是\_\_\_\_\_洋;
- (2) C 城市是\_\_\_\_\_, D 城市是\_\_\_\_\_;
- (3) E 是\_\_\_\_\_海峡。

26. 读图 4 回答:



- (1) A 是\_\_\_\_\_油田,
- (2) B 是人类自然和文化遗产\_\_\_\_\_山,
- (3) C 是著名的人类文化遗产\_\_\_\_\_,
- (4) 沿海开放城市、港口 D、E 分别是\_\_\_\_\_。

27. 读图 5 回答:



- (1) A 是\_\_\_\_\_高原,
- (2) B 是\_\_\_\_\_山脉,
- (3) C 是\_\_\_\_\_平原,
- (4) M 是著名的石油城\_\_\_\_\_,
- (5) N 是省会城市\_\_\_\_\_。

28. 图 6 显示按亚洲、欧洲、非洲、大洋洲、北美、拉丁美洲统计的人口资讯。根据图 6 中的资讯判断:



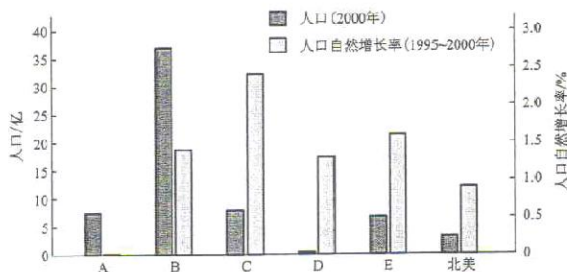


图 6

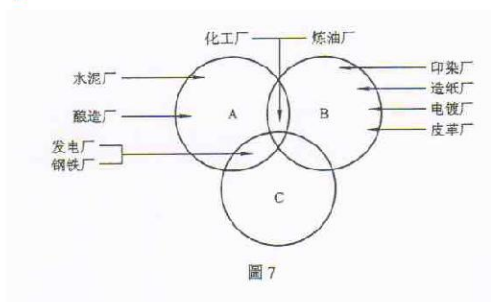
- (1) A 是\_\_\_\_\_洲      (2) B 是\_\_\_\_\_洲      (3) C 是\_\_\_\_\_洲  
 (4) D 是\_\_\_\_\_洲      (5) E 是\_\_\_\_\_洲。

四、综合题 (共 30 分)

29. 我国西气东输二线工程西起新疆霍尔果斯口岸，东抵上海，南达香港，2008 年开建，计划于 2012 年建成，年输天然气 300 亿立方米。回答下列问题。

- (1) 为什么该工程西部起点修至边境口岸？(3 分)  
 (2) 简述该工程的修建对珠江三角洲的意义。(12 分)

30 图 7 示意一些工业的污染类型，读图回答下列问题。(15 分)



- (1) A 类属于\_\_\_\_\_污染，解决此类污染，工业区位选择应\_\_\_\_\_。(5 分)  
 B 类属于\_\_\_\_\_污染，解决此类污染，工业区位选择应\_\_\_\_\_。(5 分)  
 C 类属于\_\_\_\_\_污染，解决此类污染，工业区位选择应\_\_\_\_\_。(5 分)